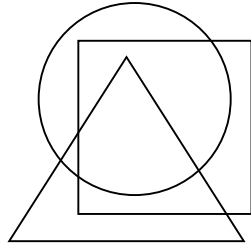



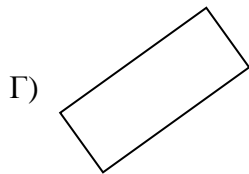
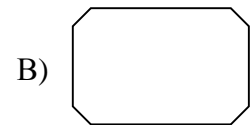
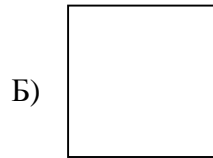

M-G-01-1-1

Шаршы мен үшбұрыштың ішінде және шеңбердің сыртында болатын нүкте қой.



M-G-01-1-2

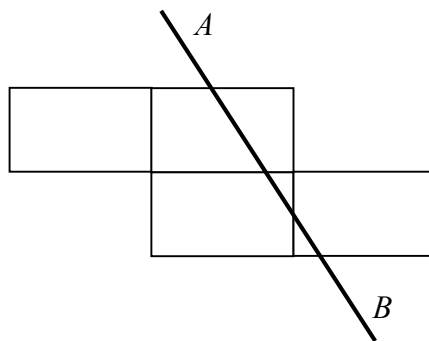
Фигуралардың қайсысы тік төртбұрыш болып табылады?  
**Барлық** дұрыс жауаптарды белгіле.



Жауабы: \_\_\_\_\_

M-G-01-1-3

$AB$  түзуі қанша тік төртбұрышты кесіп өтеді?



Жауабы: \_\_\_\_\_